

1

Šta treba izbjegavati nailaskom na ovaj saobraćajni znak?

1

vožnju prilagođenu uslovima koji vladaju na kolovozu;

nagle pokrete točkom upravljača;

naglo kočenje i zaustavljanje.



2

Kako treba postupiti nailaskom na ovaj saobraćajni znak?

pripremiti se za savladavanje više uzastopnih krivina od kojih je prva udesno;

2

učesnike u saobraćaju iza sebe upozoriti desnim pokazivačem pravca;



3

Na koju opasnost upozorava ovaj saobraćajni znak?

na blizinu dijela puta gdje je uz kolovoz neutvrđena bankina;

2

na blizinu dijela puta gdje je zaleđen kolovoz.



4

Kako ćete postupiti nailaskom na ovaj saobraćajni znak?

1

nastaviti kretanje vozilom jer imam prvenstvo prolaza;

smanjiti brzinu kretanja vozila i po potrebi zaustaviti vozilo;

popustiti vozila iz suprotnog smjera.



5

Tačan naziv saobraćajnog znaka je?



zabrana saobraćaja za sva motorna vozila koja vuku priključno vozilo;



zabrana saobraćaja za sva motorna vozila koja vuku laku prikolicu.



6

Tačan naziv saobraćajnog znaka je:



elektronska naplata putarine;



zabrana korištenja radio-aparata u vozilu.



7

Tačan naziv saobraćajnog znaka je:



niša za zaustavljanje vozila u slučaju opasnosti;



prostor rezervisan za zaustavljanje vozila javnog gradskog prevoza.



8

Tačan naziv saobraćajnog znaka je:



radionica za popravak guma;



mjesto gdje možete kontrolisati pritisak u gumama.



9

Kako treba postupiti nailaskom na ovaj saobraćajni znak?



povećavati pažnju;



pružiti pomoć povrijeđenim u saobraćajnoj nezgodi



povećavati brzinu kretanja vozila.



10

Koje značenje ima ovaj saobraćajni znak?



ulazak u područje u kojem postoji povećana opasnost od izbijanja nekontrolisanog požara;

2

ulazak u područje gdje je izletnicima dozvoljeno paljenje vatre.



11

Kako treba postupiti nailaskom na ovaj saobraćajni znak?



smanjiti brzinu kretanja vozila i povećavati pažnju;



predviditi mogućnost nailaska na poledicu na kolovozu;

3

povećavati brzinu kretanja vozila.



12

Kojim vozilima je zabranjeno kretanje putem označenim ovim saobraćajnim znakom?

1

bicikli;



autobusi i teretna vozila.



13

Kojim vozilima je dozvoljeno kretanje putem označenim ovim saobraćajnim znakom?

1

bicikli, mopedi i laki motocikli;



motocikli.



14

Koje značenje ima ovaj saobraćajni znak?

1

zabrana saobraćaja za vozila koja prevoze opasne materije iznad određene količine;



zabrana saobraćaja za vozila koja prevoze eksploziv ili neke lako zapaljive materije.



15

Tačan naziv saobraćajnog znaka je?



teren uređen za kampovanje u vozilima;

2

zabranjeno kampovanje u vozilima.



16

Tačan naziv saobraćajnog znaka je?



blizina mjesta na kojem se nalazi autopraonica;

2

blizina mjesta gdje je zabranjeno pranje vozila.



17

Koje značenje ima znak koji daje ovlašteno lice na raskrsnici?

1

dozvoljen prolaz vozilima koja dolaze sa bočnih strana ovlaštenog lica;



obavezno zaustavljanje za sva vozila ispred raskrsnice.



18


Dvostruka isprekidana linija služi za obilježavanje:



saobraćajnih traka sa izmjenljivim smjerom kretanja na kojima je saobraćaj regulisan uređajima za davanje svjetlosnih saobraćajnih znakova;

2

saobraćajne trake koju mogu koristiti samo vozila sa pravom prvenstva prolaza.



19

Kada će vozač koji upravlja vozilom koje prevozi opasne materije koristiti ovaj znak?

1

kad vrši prevoz na temperaturi ispod 0 °C;



kad vrši prevoz opasnih materija na povišenoj temperaturi.



20

Kako treba postupiti nailaskom na ovaj saobraćajni znak?



obavezno voziti ulijevo;

2

nastaviti kretanje vozilom pravom.



21

Tačan naziv saobraćajnog znaka je?



ukrštanje puteva istog značaja;

2

ukrštanje sporednih puteva pod oštrim uglom.



22

Tačan naziv saobraćajnog znaka je?



pokretni most;

2

blizina obale.



23

Koje značenje ima ovaj saobraćajni znak?

1

zabrana saobraćaja u oba smjera;



zabrana saobraćaja u smjeru kretanja vozila;



da se saobraćaj odvija iz suprotnog smjera.



24


Koje značenje ima ovaj saobraćajni znak?

1

produžetak puta sa prvenstvom prolaza;

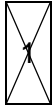


završetak puta ili dijela puta sa prvenstvom prolaza.



25

Kako ćete postupiti nailaskom na ovaj saobraćajni znak?



uz povećanu pažnju nastaviti kretanje vozilom, jer imam pravo prvenstva prolaza u odnosu na vozila koja dolaze iz suprotnog smjera;

2

zaustaviti vozilo i propustiti vozila iz suprotnog smjera.



26

Kako ćete postupiti nailaskom na ovaj saobraćajni znak?



smanjiti brzinu kretanja vozila do brzine hoda pješaka;

2

povećati brzinu kretanja vozila.



27

Kojim vozilima je dozvoljeno kretanje putem označenim ovim saobraćajnim znakom?

1

bicikl;



putničko vozilo, teretno vozilo, autobus;



motocikl.



28

Koja vozila se obilježavaju znakom kao na slici?

1

vozila koja prevoze opasne materije;



spora vozila;



29

Koje značenje ima ovaj saobraćajni znak?



opasnost za koju nije predviđen poseban znak;

2

opasnost kad se krećemo klizavim kolovozom.



30

Kako treba postupiti nailaskom na ovaj saobraćajni znak?



pravovremeno prebaciti u niži stepen prenosa;

2

prebaciti u viši stepen prenosa i što više kočiti nožnom kočnicom.



31

Kako treba postupiti nailaskom na ovaj saobraćajni znak?



smanjiti brzinu kretanja vozila;



povećavati pažnju i očekivati bicikliste;

3

povećati brzinu kretanja vozila.



32

Kojim vozilima nije dozvoljeno kretanje putem označenim ovim saobraćajnim znakom?



vozilima čije je osovinsko opterećenje veće od određenog na znaku;

2

vozilima čije je osovinsko opterećenje manje od određenog na znaku.



33

Tačan naziv saobraćajnog znaka je:



zabrana saobraćaja za sva motorna vozila, osim za motocikla bez prikolice i mopeda;

2

zabrana saobraćaja za sva motorna vozila, osim za motocikla bez prikolice.



34

Tačan naziv saobraćajnog znaka je?



zabrana saobraćaja za bicikle;



zabrana saobraćaja za bicikle i mopede.



35

Koje značenje ima ovaj saobraćajni znak?



obavezno obilaženje sa lijeve strane;



obavezan smjer.



36

Šta zabranjuje ovaj saobraćajni znak?



zaustavljanje vozila;



parkiranje vozila.



37

Koja vozila se obilježavaju oznakom kao na slici?



teška vozila;



vozila šira od 2,5 m.



38

Tačan naziv saobraćajnog znaka je:



prvenstvo prolaza za vozila iz suprotnog smjera;



dozvoljeni smjer;



saobraćaj u oba smjera.



39

Koje značenje ima ovaj saobraćajni znak?

- 1 moguće neravnine i izbočine na putu;
 2 opasnost od kamenja koje se odronjava na put.



40

Koje značenje ima ovaj saobraćajni znak?

- 1 blizina prelaza puta preko željezničke pruge u nivou koja nije obezbijeđena branicima ili polubranicima;
 2 blizina prelaza puta preko željezničke pruge u nivou koja je obezbijeđena branicima ili polubranicima;
 3 nailazak na drveni most.



41

Tačan naziv saobraćajnog znaka je:

- 1 zabrana saobraćaja za vozila koja prevoze opasne materije;
 2 zabrana saobraćaja za teretna vozila koja prevoze opasne materije



42

Tačan naziv saobraćajnog znaka je:

- 1 zabrana saobraćaja za vozila koja prekoračuju određeno dvoosovinsko opterećenje;
 2 zabrana saobraćaja za vozila čije opterećenje po jednostrukoj osovini prelazi opterećenje označeno na znaku.



43

Tačan naziv saobraćajnog znaka je:

- 1 pješačka staza;
 2 zona smirenog saobraćaja.



44

Tačan naziv saobraćajnog znaka je:

- 1 put sa jednosmjernim saobraćajem;
 2 obavezan smjer.



45

Koja vozila se obilježavaju oznakom kao na slici?

- 1 duga vozila;
 2 vozila čija širina prelazi 2,5 m.



46

Šta može imati za posljedicu nepoštovanje ovog znaka?

- 1 moguće zanošenje i izlijetanje vozila sa kolovoza;
 2 veću kontrolu prilikom upravljanja vozilom;
 3 moguće oštećenje ili lomljenje dijelova na vozilu.



47

Tačan naziv saobraćajnog znaka je?

- 1 pokretni most;
 2 blizina obale.



48

Tačan naziv saobraćajnog znaka je?

- 1 životinje na putu;
 2 divljač na putu.



49

Tačan naziv saobraćajnog znaka je?



zabrana preticanja svih motornih vozila, osim motocikla bez prikolice i mopeda;

2

zabrana preticanja svih motornih vozila, osim mopeda.



50

Kojim vozilima nije dozvoljeno kretanje putem označenim ovim saobraćajnim znakom?



vozilima čija ukupna visina premašuje visinu označenu na znaku;

2

vozilima čija ukupna visina ne premašuje visinu označenu na znaku.



51

Koje značenje ima ovaj saobraćajni znak?

1

obavezni smjerovi;



dozvoljeni smjerovi.



52

Koje značenje ima ovaj saobraćajni znak?

1

najmanja dozvoljena brzina;

2

najveća dozvoljena brzina;



brzina koja se preporučuje na određenom dijelu puta.



53

Koje značenje ima ovaj saobraćajni znak?



početak autoputa;

2

početak brzog puta;

3

početak puta rezervisanog za saobraćaj motornih vozila.



54

Kako treba postupiti nailaskom na ovaj saobraćajni znak?

- 1 povećati brzinu kretanja vozila;
- 2 smanjiti brzinu kretanja vozila;
- 3 računati na mogućnost udara bočnog vjetra sa desne strane.



55

Koje značenje imaju ovaj saobraćajni znak?

- 1 obavezno zaustaviti vozilo;
- 2 nailazak na raskrsnicu regulisanu svjetlosnom saobraćajnom signalizacijom;
- 3 nastaviti kretanje vozilom bez smanjenja brzine kretanja.



56

Kako treba postupiti nailaskom na ovaj saobraćajni znak?

- 1 povećati pažnju;
- 2 povećati brzinu kretanja vozila;
- 3 smanjiti brzinu kretanja vozila.



57

Tačan naziv saobraćajnog znaka je:

- 1 zabrana polukružnog okretanja;
- 2 obavezno polukružno okretanje.



58 Tačan naziv saobraćajnog znaka je:

- 1 zabrana saobraćaja za vozila koja prevoze opasne materije;
 2 zabrana saobraćaja za vozila cisterne.



59 Tačan naziv saobraćajnog znaka je:

- 1 zabrana saobraćaja za sva motorna vozila koja vuku priključno vozilo;
 2 zabrana saobraćaja za teretno vozilo koje vuče priključno vozilo.



60 Koje značenje ima ovaj saobraćajni znak?

- 1 obavezan smjer;
 2 obavezno polukružno okretanje.



61 Koje značenje ima ovaj saobraćajni znak?

- 1 staza kojom se moraju kretati bicikli;
 2 biciklistička staza;
 3 zabrana kretanja za bicikle.



62 Tačan naziv saobraćajnog znaka je:

- 1 zabrana održavanja sportskih priredbi na putu;
 2 prevrtanje ili iskliznuće vozila sa kolovoza.



63

Tačan naziv saobraćajnog znaka je:

- 1 obavezno zaustavljanje;
- 2 nailazak na put sa prvenstvom prolaza.



64

Tačan naziv saobraćajnog znaka je:

- 1 najveće odstojanje između vozila;
- 2 najmanje odstojanje između vozila.



65

Tačan naziv saobraćajnog znaka je:

- 1 zabrana saobraćaja za sva motorna vozila;
- 2 zabrana saobraćaja za sva motorna vozila, osim mopeda.



66

Koje značenje ima ovaj saobraćajni znak?

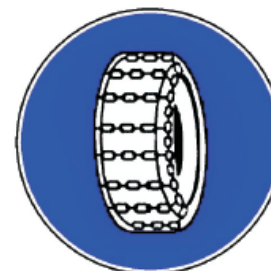
- 1 brzina koja je preporučena;
- 2 najmanja dopuštena brzina kretanja vozila;
- 3 ograničenje brzine.



67

Koje značenje ima ovaj saobraćajni znak?

- 1 zabrana saobraćaja za vozila koja na točkovima koriste lance;
- 2 označava početak dijela puta na kome motorna vozila, osim motocikla moraju imati propisanu zimsku opremu u zimskim uslovima.



68**Koje značenje ima ovaj saobraćajni znak?**

- 1 obavezno se prestrojiti u desnu saobraćajnu traku;
- 2 najava završetka preticanja.

**69****Koja motorna vozila je dozvoljeno preticati na putu označenim ovim saobraćajnim znakom?**

- 1 motocikl bez prikolice i moped;
- 2 putničko vozilo.

**70****Kako treba postupiti nailaskom na ovaj saobraćajni znak?**

- 1 obavezno zaustaviti vozilo;
- 2 povećavati pažnju;
- 3 smanjiti brzinu kretanja vozila tako da se u slučaju potrebe može blagovremeno izvršiti radnja kočenja i zaustavljanja;
- 4 nastaviti kretanje vozilom bez smanjenja brzine kretanja.

**71****Kako treba postupiti nailaskom na ovaj saobraćajni znak?**

- 1 obavezno zaustaviti vozilo;
- 2 nastaviti kretanje vozilom sa naročitom oprežnošću;
- 3 smanjiti brzinu kretanja vozila tako da se u slučaju potrebe može blagovremeno izvršiti radnja kočenja i zaustavljanja;
- 4 nastaviti kretanje vozilom bez smanjenja brzine kretanja.



72**Koje značenje ima ovaj saobraćajni znak?**

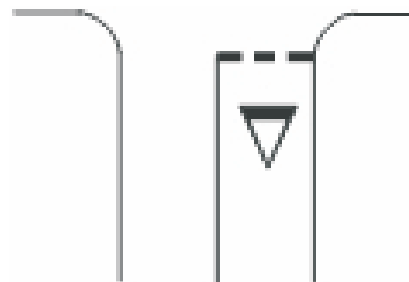
- 1 dozvoljeni smjer;
- 2 put sa jednosmjernim saobraćajem;
- 3 obavezno obilaženje sa desne strane.

**73****Kako treba postupiti nailaskom na ovaj saobraćajni znak?**

- 1 obavezno smanjiti brzinu kretanja vozila ispod 30 km/h;
- 2 nastaviti kretanje vozilom sa naročitom oprežnošću u dužini od 30 km;
- 3 nastaviti kretanje vozilom pri čemu je najmanja dopuštena brzina kretanja vozila 30 km/h.

**74****Kako treba postupiti nailaskom na ove oznake na kolovozu?**

- 1 obavezno izvršiti radnju skretanja udesno;
- 2 zaustaviti se po potrebi i propustiti pješake na obilježenom pješačkom prelazu;
- 3 zaustaviti se po potrebi i propustiti vozila koja se kreću na putu sa prvenstvom prolaza.

**75****Kako treba postupiti nailaskom na ovaj saobraćajni znak?**

- 1 obavezno zaustaviti vozilo;
- 2 nastaviti kretanje vozilom sa naročitom oprežnošću;
- 3 prilagoditi brzinu kretanja vozila tako da se, u slučaju potrebe, može blagovremeno zaustaviti vozilo.



76

Koje značenje ima ovaj saobraćajni znak?


- 1 prestanak ograničenja brzine od 80 km/h;
- 2 dio puta gdje prestaje preporučena brzina od 80 km/h;
- 3 dio puta gdje je preporučena brzina 80 km/h.



77

Koje značenje ima ovaj saobraćajni znak?


- 1 mjesto gdje prestaju sve zabrane;
- 2 put ili dio puta na kojem vozila imaju prednost prolaza prema vozilima koja se kreću putevima koji se ukrštaju, odnosno spajaju sa tim putem ili dijelom puta;
- 3 prelazak puta preko željezničke pruge.



78

Koje značenje ima ovaj saobraćajni znak?

- 1 dozvoljeni smjer;
- 2 prvenstvo prolaza u odnosu na vozila koja dolaze iz suprotnog smjera;
- 3 put sa jednosmjernim saobraćajem.



79

Tačan naziv saobraćajnog znaka je?

- 1 prestanak najmanje dopuštene brzine;
- 2 prestanak preporučene brzine.
- 3 prestanak ograničenja brzine.



80

Kako treba postupiti nailaskom na ove oznake na kolovozu?

- 1 odustati od eventualne namjere zaustavljanja i parkiranja;
- 2 po potrebi se zaustaviti, ali ne i parkirati;
- 3 obavezno se zaustaviti.



81**Koje značenje ima ovaj saobraćajni znak?**

- 1 zabrana kretanja za bicikliste i pješake;
- 2 razdvojena staza za pješake i bicikliste, kojom je zabranjeno kretanje drugih učesnika u saobraćaju,
- 3 staza za kretanje pješaka, bicikla i motocikla.

**82****Kako treba postupiti nailaskom na ovaj saobraćajni znak?**

- 1 povećati brzinu kretanja vozila;
- 2 prilagoditi brzinu kretanja vozila uslovima i stanju na putu jer postoji povećana opasnost od iskliznuća ili prevrtanja vozila.

**83****Koje značenje ima ovaj saobraćajni znak?**

- 1 mjesto na putu gdje je postavljeno preventivno ulegnuće kao objekat koji se koristi za smirivanje saobraćaja.
- 2 mjesto na putu gdje je postavljena preventivna izbočina kao objekat koji se koristi za smirivanje saobraćaja.

**84****Koje značenje ima ovaj saobraćajni znak?**

- 1 blizina mjesta na kojem se izvode radovi ili na kojem je prepreka na putu;
- 2 približavanje mjestu na kojem je saobraćaj regulisan svjetlosnim saobraćajnim znacima;
- 3 smjer i način preusmjeravanja saobraćaja.



85 Koje značenje ima ovaj saobraćajni znak?

- 1 blizina dijela puta na kojem se često događaju saobraćajne nezgode;
- 2 blizina dijela puta na kojem se dogodila saobraćajna nezgoda.



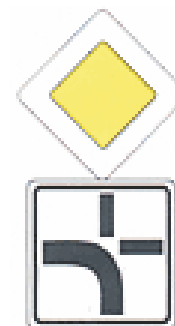
86 Koje značenje ima ovaj saobraćajni znak?

- 1 mjesto od kog počinje autoput;
- 2 mjesto od kog počinje put rezervisan za saobraćaj motornih vozila;
- 3 mjesto od kog počinje brzi put.



87 Koje značenje ima ovaj saobraćajni znak?

- 1 položaj puta sa pravom prvenstva prolaza;
- 2 obavezno skretanje ulijevo;
- 3 prvenstvo prolaza u svim smjerovima.



88 Koje značenje ima ovaj saobraćajni znak?

- 1 mjesto u naselju na kojem se ulazi u područje u kojem se ne smije upravljati vozilom brže od brzine hoda pješaka budući da je dječija igra dopuštena;
- 2 mjesto u naselju na kojem se ulazi u područje u kojem je dozvoljeno upravljati vozilom brže od brzine hoda pješaka.



89 Kako treba postupiti prilikom nailaska vozilom na ovlašteno lice koje u vašem smjeru kretanja daje znak kao na slici?

- 1 povećati brzinu kretanja vozila;
- 2 smanjiti brzinu kretanja vozila;
- 3 zaustaviti vozilo.



90 Kako ćete postupiti nailaskom na ovaj saobraćajni znak?

- 1 nastaviti kretanje vozilom jer imam prednost u odnosu na vozila iz suprotnog smjera;
- 2 nastaviti kretanje vozilom sa naročitom oprežnošću u odnosu na vozila iz suprotnog smjera;
- 3 ne nastaviti kretanje vozilom, jer je zabranjen saobraćaj vozilima iz smjera prema kome je okrenut znak.



91 Na koju opasnost upozorava ovaj saobraćajni znak?

- 1 na blizinu tramvajske pruge;
- 2 na blizinu prelaza puta preko željezničke pruge u nivou koja je obezbijeđena branicima ili polubranicima;
- 3 na blizinu prelaza puta preko željezničke pruge u nivou koja nije obezbijeđena branicima ili polubranicima.



92 Na koju opasnost upozorava ovaj saobraćajni znak?

- 1 na blizinu dijela puta na kojem su česte duže kolone vozila u kretanju;
- 2 na blizinu dijela puta na kojem u određenim uslovima saobraćaja ili drugim okolnostima postoji opasnost od kolone zaustavljenih vozila.




93 Dva crvena trepćuća svjetla koja se naizmjenično pale na saobraćajnom znaku postavljenom prije prelaza puta preko željezničke pruge u nivou, kao na slici, upozoravaju na:

- 1 približavanje voza;
- 2 spuštanje branika ili polubranika;
- 3 mjesto na putu gdje se izvode radovi.



94 Koje značenje ima ovaj saobraćajni znak?

- 1 blizina i položaj puta koji nema izlaza (slijepi put);
- 2 zabrana skretanja ulijevo.



95

Šta zabranjuje ovaj saobraćajni znak?

- 1 parkiranje vozila;
- 2 samo zaustavljanje vozila;
- 3 zaustavljanje i parkiranje vozila.



96

Kako ćete postupiti prilikom nailaska vozilom na ovlašteno lice koje u vašem smjeru kretanja daje znak kao na slici?

- 1 povećati brzinu kretanja vozila;
- 2 zaustaviti vozilo;
- 3 smanjiti brzinu kretanja vozila.



97

Koje značenje ima ovaj saobraćajni znak?

- 1 mjesto na kojem se nalazi obilježeni pješački prelaz;
- 2 blizina mjesta na kojem se nalazi obilježeni pješački prelaz;
- 3 posebno izgrađena pješačka staza.



98

Sta označava crvena kontrolna lampica ako vam se upali za vrijeme kretanja vozilom, kao na slici?

- 1 kvar u sistemu za punjenje akumulatora;
- 2 kvar u sistemu za osvjetljenje puta.



99

Koje značenje ima ovaj saobraćajni znak?

- 1 ukrštanje puteva iste važnosti;
- 2 ukrštanje puta sa sporednim putem pod pravim uglom.



100

Koje značenje ima ovaj saobraćajni znak?

- 1 prevoj puta;
- 2 suženje puta.



101

Koje značenje ima ovaj saobraćajni znak?

- 1 blizina raskrsnice na kojoj se saobraćaj odvija kružno;
- 2 kružni tok saobraćaja.



102

Koje značenje ima ovaj saobraćajni znak?

- 1 vremensko ograničenje parkiranja;
- 2 zona u kojoj je ograničeno trajanje parkiranja;
- 3 parkiralište.



103

Kako ćete postupiti prilikom nailaska na saobraćajni znak sa dopunskom tablom, ukoliko nastavljate kretanje vozilom pravo?

- 1 propustiću vozila koja se nalaze na putu sa prvenstvom prolaza;
- 2 obavezno ću se zaustaviti;
- 3 propustiću samo vozila sa desne strane.



104


Koje značenje ima ovaj saobraćajni znak?

- 1 da upravljamo vozilom po jednosmjernom putu;
- 2 da ne smijemo skrenuti udesno ili ulijevo;
- 3 da je zabranjen saobraćaj iz suprotnog smjera.



105 Kako postupate za vrijeme upravljanja vozilom nailaskom na ovaj saobraćajni znak?

- smanjujete brzinu kretanja vozila jer nailazite na oštru krivinu udesno;
- izbjegavate kočenje u krivini;
- 3 povećavate brzinu kretanja vozila.



106 Na šta vas upozorava crvena kontrolna lampica na instrument-tabli, ako vam se upali za vrijeme kretanja vozilom, kao na slici?

- 1 višak ulja u motoru;
- kvar u sistemu za podmazivanje motora.



107 Koje značenje ima ovaj saobraćajni znak?

- 1 zabrana prelaza za bicikl;
- obilježeni prelaz biciklističke staze.



108 Kako treba postupiti prilikom nailaska vozilom na ovlašteno lice koje u vašem smjeru kretanja daje znak kao na slici?

- 1 izvršiti radnju skretanja udesno;
- 2 izvršiti radnju skretanja ulijevo;
- obavezno se zaustaviti.



109 Koje značenje ima ovaj saobraćajni znak?

- mjesto gdje se nailazi na oštru krivinu;
- 2 mjesto gdje se nailazi na blagu krivinu;
- 3 mjesto gdje se izvode radovi na putu.

s

