

1

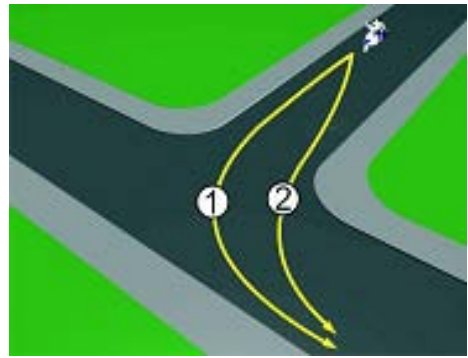
U saobraćajnoj situaciji kao na slici kojom putanjom vozač motocikla mora izvršiti radnju skretanja ulijevo?

1

putanjom broj 2;



putanjom broj 1.



2

Koji je redoslijed prolaska vozila na raskrsnici u situaciji kao na slici?

1

2 – 3 – 1;

2

2 – 1 – 3;



1 – 3 – 2.



3

Koji je redoslijed prolaska vozila na raskrsnici u situaciji kao na slici?



1 – 2;

2

2 – 1.



4

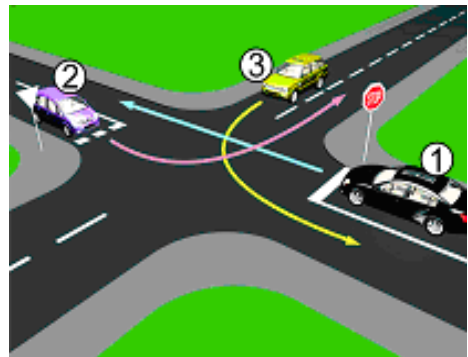
Kako u saobraćajnoj situaciji kao na slici mora postupiti vozač vozila broj 1:



propustiti vozilo broj 3, a zatim proći prije vozila broj 2;

2

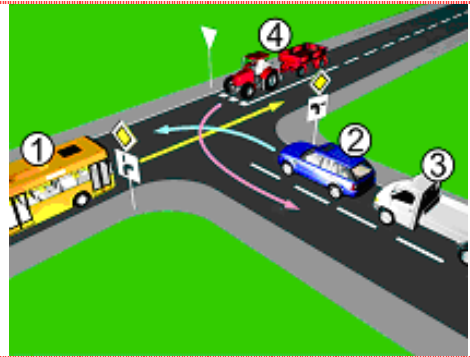
propustiti vozilo broj 3, zatim propustiti vozilo broj 2 i zadnji proći kroz raskrsnicu.



5

Koji je redoslijed prolaska vozila na raskrsnici u situaciji kao na slici?

- 1 2 – 3 – 4 – 1;
- 2 2 – 3 – 1 – 4;
- 3 1 – 2 – 3 – 4.



6

Kako u saobraćajnoj situaciji kao na slici mora postupiti vozač vozila broj 1?

- 1 proći kroz raskrsnicu prije vozila broj 2, a propustiti vozilo broj 3;
- 2 propustiti vozilo broj 2, a zatim proći kroz raskrsnicu prije vozila broj 3.



7

Koji je redoslijed prolaska vozila na raskrsnici u situaciji kao na slici?

- 1 3 – 1 – 2 – 4;
- 2 4 – 2 – 1 – 3;
- 3 3 – 4 – 2 – 1.



8

Koji je redoslijed prolaska vozila na raskrsnici u situaciji kao na slici?

- 1 2 – 3 – 1;
- 2 2 – 1 – 3;
- 3 3 – 1 – 2.



9

Da li je u saobraćajnoj situaciji kao na slici dozvoljeno izvršiti radnju polukružnog okretanja vozilom?



da;



ne.



10

U saobraćajnoj situaciji kao na slici, koji učesnik u saobraćaju mora sačekati i propustiti drugog učesnika?



broj 2;



broj 1.



11

Koji je redoslijed prolaska vozila na raskrsnici u situaciji kao na slici?



5-4-3-2-1;



1-2-3-4-5.



12

Koji je redoslijed prolaska vozila na raskrsnici u situaciji kao na slici?



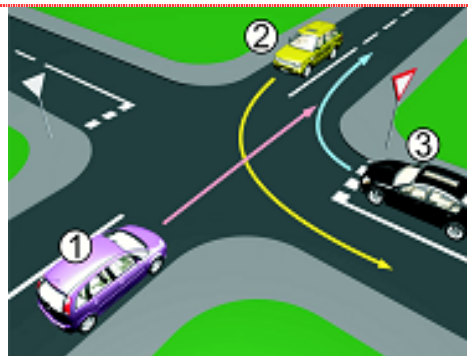
2-3-1;



1-2-3;



3-1-2.



13

Kojim vozilima u saobraćajnoj situaciji kao na slici nije dozvoljen prolaz na raskrsnici?



vozilo broj 1 i broj 3;

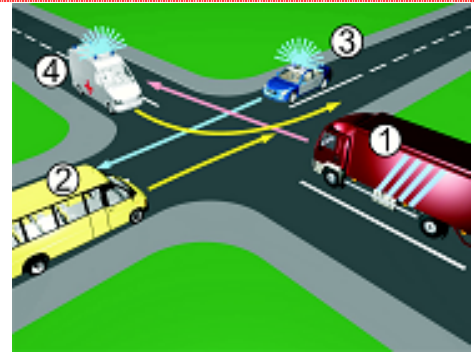


vozilo broj 4 i broj 2.



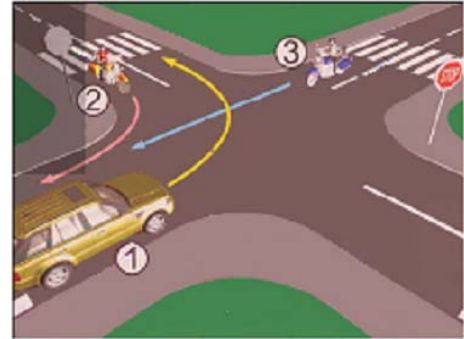
**14** Koji je redoslijed prolaska vozila na raskrsnici u situaciji kao na slici?

- 4 – 3 – 1 – 2;
- 2 – 3 – 1 – 2;
- 3 – 4 – 1 – 2.



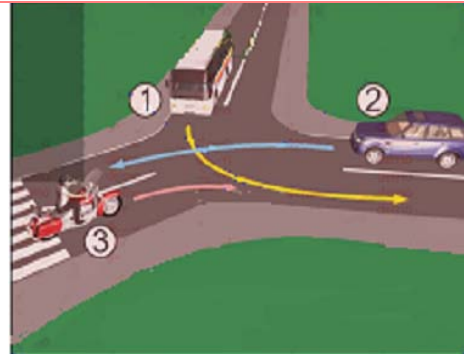
**15** Koji je redoslijed prolaska vozila na raskrsnici u situaciji kao na slici?

- 1 – 2 – 3;
- 2 – 3 – 1;
- 3 – 1 – 2.



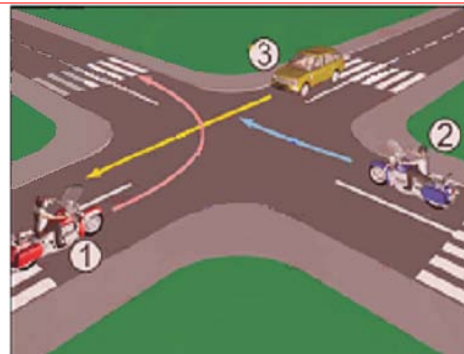
**16** Koji je redoslijed prolaska vozila na raskrsnici u situaciji kao na slici?

- 1 – 2 – 3;
- 3 – 1 – 2;
- 1 – 3 – 2.



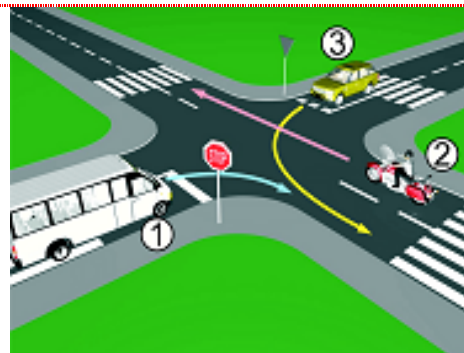
**17** Koji je redoslijed prolaska vozila na raskrsnici u situaciji kao na slici?

- 1 – 2 – 3;
- 3 – 2 – 1;
- 2 – 1 – 3.



**18** Koji je redoslijed prolaska vozila na raskrsnici u situaciji kao na slici?

- 1 – 3 – 2;
- 2 – 3 – 1;
- 2 – 1 – 3.



**19** Koji je redoslijed prolaska vozila na raskrsnici u situaciji kao na slici?

- 1 1 – 3 – 2 – 4;
- 2 3 – 2 – 1 – 4;
- 3 3 – 1 – 2 – 4;
- 4 1 – 4 – 2 – 3.



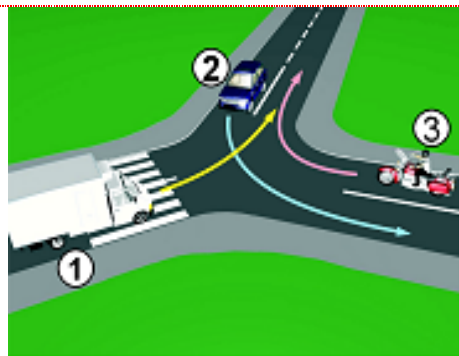
**20** Kako u saobraćajnoj situaciji kao na slici mora postupiti vozač vozila broj 2?

- 1 zaustaviti se i propustiti vozilo broj 1;
- 2 proći prije vozila broj 1.



**21** Koji je redoslijed prolaska vozila na raskrsnici u situaciji kao na slici?

- 1 2 – 1 – 3;
- 2 3 – 1 – 2;
- 3 1 – 2 – 3.



**22** Koji je redoslijed prolaska vozila na raskrsnici u situaciji kao na slici?

- 1 1 – 2 – 3;
- 2 1 – 3 – 2;
- 3 3 – 1 – 2.



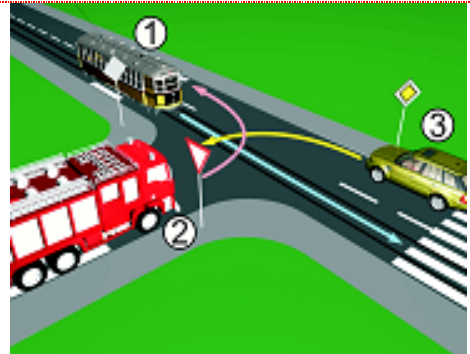
**23** Koji je redoslijed prolaska vozila na raskrsnici u situaciji kao na slici?

- 1 2 – 1 – 3;
- 2 1 – 3 – 2;
- 3 3 – 2 – 1.



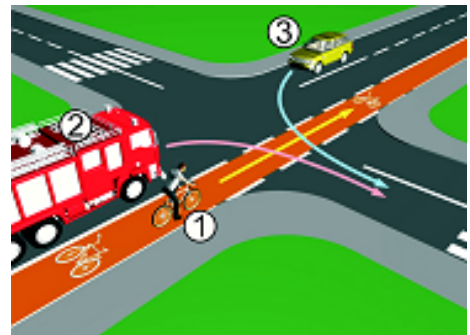
**24** Koji je redoslijed prolaska vozila na raskrsnici u situaciji kao na slici?

- 1 3 – 2 – 1;
- 2 1 – 2 – 3;
- 3 1 – 3 – 2.



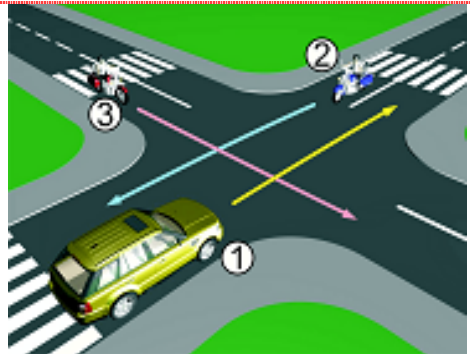
**25** Koji je redoslijed prolaska vozila na raskrsnici u situaciji kao na slici?

- 1 1 – 2 – 3;
- 2 2 – 1 – 3;
- 3 3 – 1 – 2.



**26** Koji je redoslijed prolaska vozila na raskrsnici u situaciji kao na slici?

- 1 2 – 1 – 3;
- 2 3 – 2 – 1;
- 3 1 – 3 – 2.



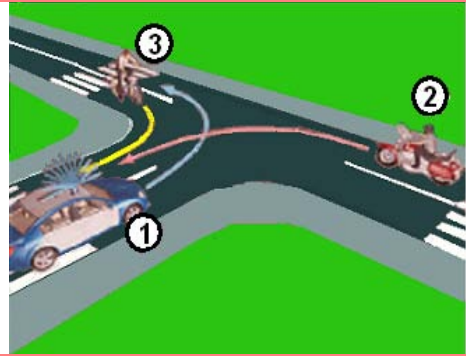
**27** Koji je redoslijed prolaska vozila na raskrsnici u situaciji kao na slici?

- 1 1 – 2 – 3;
- 2 2 – 1 – 3;
- 3 3 – 1 – 2.



**28** Koji je redoslijed prolaska vozila na raskrsnici u situaciji kao na slici?

- 1 3 – 2 – 1;
- 2 2 – 1 – 3;
- 3 1 – 3 – 2.



**29** Kako u saobraćajnoj situaciji kao na slici mora postupiti vozač vozila broj 2?

- 1 propustiti vozilo broj 1;
- 2 proći prije vozila broj 1.



**30** Kako u saobraćajnoj situaciji kao na slici mora postupiti vozač vozila broj 2?

- 1 proći prije vozila broj 1;
- 2 propustiti vozilo broj 1.



**31** Koji je redoslijed prolaska vozila na raskrsnici u situaciji kao na slici?

- 1 2 – 1 – 3;
- 2 3 – 1 – 2;
- 3 3 – 2 – 1.



**32** Koji je redoslijed prolaska vozila na raskrsnici u situaciji kao na slici?:

- 1 1 – 2 – 3 – 4;
- 2 4 – 1 – 2 – 3;
- 3 2 – 3 – 4 – 1.

