

33

Koji je redoslijed prolaska vozila na raskrsnici u situaciji kao na slici?



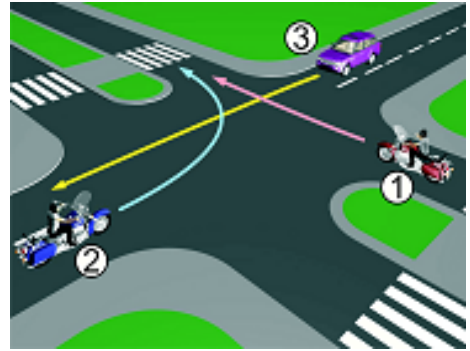
3 – 1 – 2;



2 – 1 – 3;



1 – 2 – 3.



34

Koji je redoslijed prolaska vozila na raskrsnici u situaciji kao na slici?



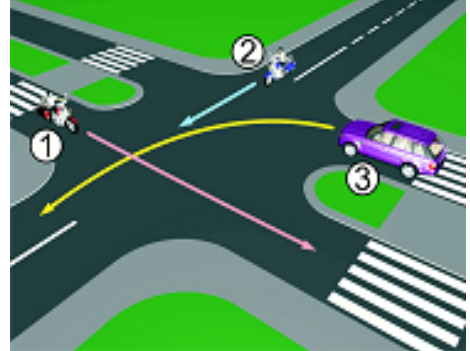
3 – 2 – 1;



1 – 2 – 3;



2 – 1 – 3.



35

Koji je redoslijed prolaska vozila na raskrsnici u situaciji kao na slici?



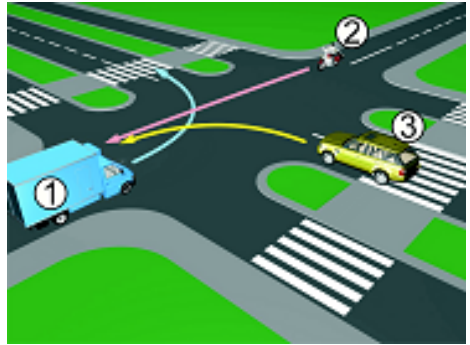
1 – 3 – 2;



2 – 3 – 1;



3 – 2 – 1.



36

Koji je redoslijed prolaska vozila na raskrsnici u situaciji kao na slici?



2 – 3 – 1;



3 – 2 – 1;



3 – 1 – 2.



37

Koji je redoslijed prolaska vozila na raskrsnici u situaciji kao na slici?



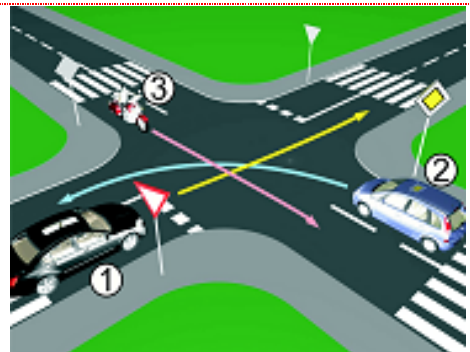
3 – 2 – 1;



1 – 2 – 3;



2 – 1 – 3.



38 Koji je redosljed prolaska vozila na raskrsnici u situaciji kao na slici?

- 1 3 – 2 – 1;
- 2 2 – 3 – 1;
- 3 1 – 2 – 3.



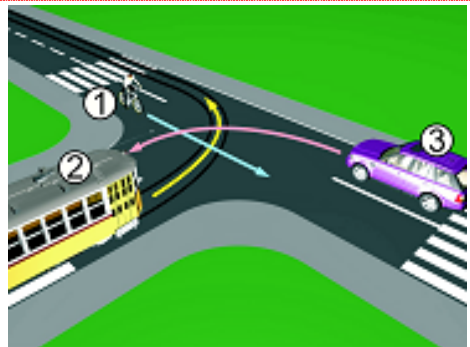
39 Koji je redosljed prolaska vozila na raskrsnici u situaciji kao na slici?

- 1 2 – 3 – 1;
- 2 1 – 3 – 2;
- 3 1 – 2 – 3.



40 Koji je redosljed prolaska vozila na raskrsnici u situaciji kao na slici?

- 1 3 – 2 – 1;
- 2 2 – 1 – 3;
- 3 1 – 2 – 3.



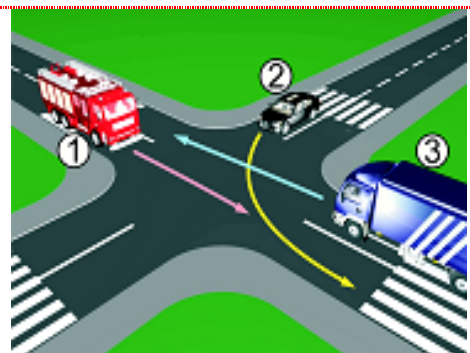
41 Koji je redosljed prolaska vozila na raskrsnici u situaciji kao na slici?

- 1 2 – 3 – 1;
- 2 1 – 3 – 2;
- 3 2 – 1 – 3.



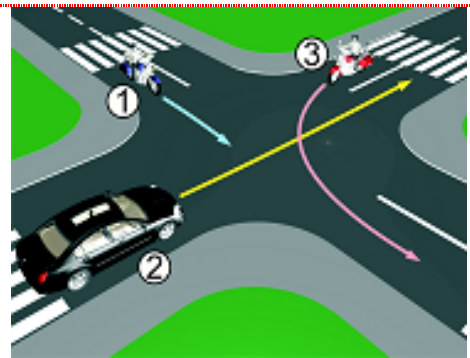
42 Koji je redosljed prolaska vozila na raskrsnici u situaciji kao na slici?

- 1 3 – 2 – 1;
- 2 3 – 1 – 2;
- 3 1 – 2 – 3.



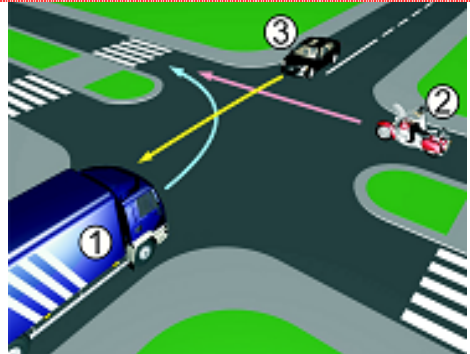
43 Koji je redoslijed prolaska vozila na raskrsnici u situaciji kao na slici?

- 1 1 – 2 – 3;
- 2 3 – 1 – 2;
- 3 2 – 1 – 3.



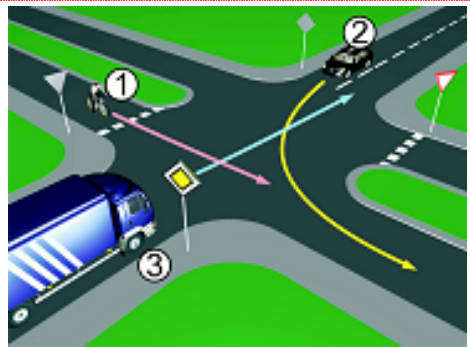
44 Koji je redoslijed prolaska vozila na raskrsnici u situaciji kao na slici?

- 1 3 – 2 – 1;
- 2 2 – 1 – 3;
- 3 1 – 2 – 3.



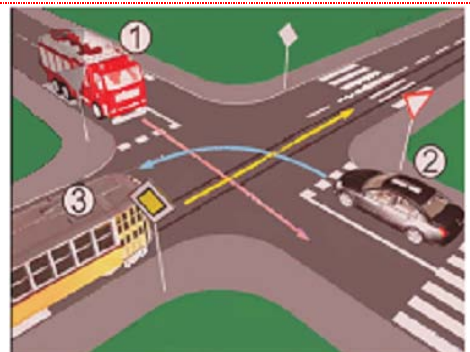
45 Koji je redoslijed prolaska vozila na raskrsnici u situaciji kao na slici?

- 1 3 – 2 – 1;
- 2 2 – 1 – 3;
- 3 1 – 3 – 2.



46 Koji je redoslijed prolaska vozila na raskrsnici u situaciji kao na slici?

- 1 3 – 1 – 2;
- 2 2 – 1 – 3;
- 3 1 – 3 – 2.



47 Koji je redoslijed prolaska vozila na raskrsnici u situaciji kao na slici?

- 1 2 – 1 – 3;
- 2 3 – 2 – 1;
- 3 1 – 3 – 2.



48 Koji je redoslijed prolaska vozila na raskrsnici u situaciji kao na slici?

- 1 1 – 2 – 3;
- 2 2 – 3 – 1;
- 3 3 – 2 – 1.



49 Koji je redoslijed prolaska vozila na raskrsnici u situaciji kao na slici?

- 1 2 – 1 – 3 – 4;
- 2 1 – 2 – 3 – 4;
- 3 1 – 2 – 4 – 3.



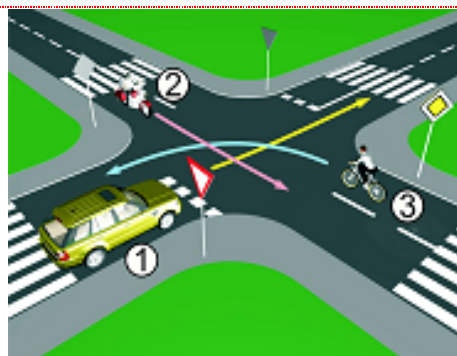
50 Koji je redoslijed prolaska vozila na raskrsnici u situaciji kao na slici?

- 1 1 – 3 – 2;
- 2 3 – 2 – 1;
- 3 2 – 3 – 1.



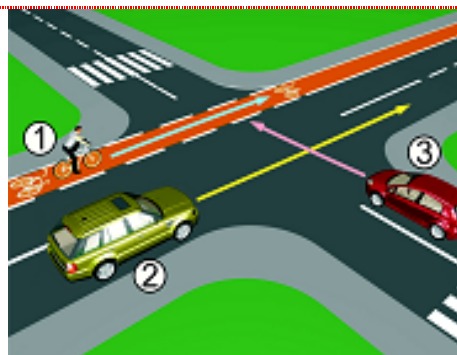
51 Koji je redoslijed prolaska vozila na raskrsnici u situaciji kao na slici?

- 1 2 – 3 – 1;
- 2 2 – 1 – 3;
- 3 3 – 1 – 2.



52 Koji je redoslijed prolaska učesnika u saobraćaju na raskrsnici u situaciji kao na slici?

- 1 1-3-2;
- 2 3, pa 2 i 1 istovremeno;
- 3 2 i 1 istovremeno, pa 3.



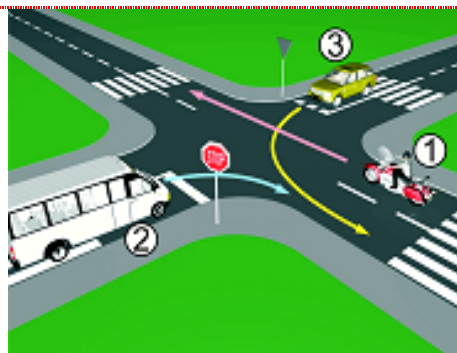
53 Da li je u saobraćajnoj situaciji kao na slici dozvoljeno izvršiti radnju polukružnog okretanja vozilom kojim upravljate?

- 1 da;
 2 ne.



54 Koji je redoslijed prolaska vozila na raskrsnici u situaciji kao na slici?

- 1 1 – 3 – 2;
 2 1 – 2 – 3;
 3 3 – 1 – 2.



55 Koji je redoslijed prolaska vozila na raskrsnici u situaciji kao na slici?

- 1 1 – 3 – 2;
 2 3 – 1 – 2;
 3 2 – 3 – 1.



56 Koji je redoslijed prolaska vozila na raskrsnici u situaciji kao na slici?

- 1 4 – 1 – 2 – 3;
 2 2 – 3 – 4 – 1;
 3 2 – 3 – 1 – 4.



57 Koji je redoslijed prolaska vozila na raskrsnici u situaciji kao na slici?

- 1 3 – 2 – 1;
 2 3 – 1 – 2;
 3 2 – 3 – 1.




58 Kako ćete postupiti na raskrsnici na kojoj je saobraćaj regulisan svjetlosnom saobraćajnom signalizacijom kao na slici?

- 1 obavezno zaustaviti vozilo jer se uključujem sa sporednog puta;
- 2 obavezno zaustaviti vozilo zbog znaka „STOP“;
- 3 nastaviti kretanje vozilom.



59 Kako ćete postupiti na raskrsnici u saobraćajnoj situaciji kao na slici?

- 1 nastaviti kretanje vozilom jer nema niko sa desne strane;
- 2 proći drugi jer sam žutom vozilu sa desne strane;
- 3 zaustaviti se i propustiti oba vozila;



60 Kako ćete postupiti na raskrsnici u saobraćajnoj situaciji kao na slici?

- 1 proći prvi kroz raskrnicu;
- 2 propustiti crveno vozilo;
- 3 zaustaviti se i propustiti oba vozila;
- 4 proći kroz raskrnicu prije žutog vozila.



61 Kako ćete postupiti u saobraćajnoj situaciji kao na slici ako upravljate plavim automobilom?

- 1 proći prvi jer sam sa desne strane;
- 2 proći prvi jer skrećem udesno;
- 3 zaustaviti se i propustiti crveno vozilo.

