

62 Kako ćete postupiti u saobraćajnoj situaciji kao na slici ako imate namjeru proći raskrsnicu?

- 1 obavezno se zaustaviti, bez obzira ima li vozila sa lijeve strane u raskrsnici;
- 2 nastaviti kretanje bez zaustavljanja jer me vozači vozila u raskrsnici moraju propustiti;
- 3 zaustaviti se po potrebi, radi propuštanja vozila koja su već u raskrsnici, a potom proći kroz raskrsnicu.



63 Kako ćete postupiti u saobraćajnoj situaciji kao na slici prilikom dolaska na raskrsnicu?

- 1 nastaviti kretanje jer ne mijenjam smjer kretanja vozila;
- 2 propustiti motocikl;
- 3 proći prije vozila koje dolazi iz suprotnog smjera.



64 Kako trebate postupiti u saobraćajnoj situaciji kao na slici prilikom dolaska na raskrsnicu?

- 1 proći prvi kroz raskrsnicu;
- 2 proći drugi kroz raskrsnicu, nakon propuštanja bijelog vozila;
- 3 proći posljednji kroz raskrsnicu.



65 Kako trebate postupiti u saobraćajnoj situaciji kao na slici prilikom dolaska na raskrsnicu?

- 1 zaustaviti se i propustiti oba vozila;
- 2 proći prvi kroz raskrsnicu jer sam cvenom vozilu sa desne strane;
- 3 propustiti crveno vozilo, a zatim proći kroz raskrsnicu istovremeno sa autobusom.



66 Kako trebate postupiti u saobraćajnoj situaciji kao na slici?

- 1 obavezno se zaustaviti;
- 2 nastaviti kretanje vozilom ulijevo, nakon propuštanja vozila koja dolaze sa desne strane;
- 3 nakon što se na semaforu upali zeleno svjetlo, nastaviti kretanje vozilom ulijevo;
- 4 nakon što se na semaforu upali zeleno svjetlo, nastaviti kretanje udesno.



67 Kako ćete postupiti u saobraćajnoj situaciji kao na slici?

- povećati pažnju zbog nailaska na ukrštanje odnosno spajanje puta sa prednošću prolaska sa sporednim putem;
- obavezno nastaviti kretanje vozilom pravo;
- skrenuti udesno na sporedni put ili nastaviti kretanje vozilom pravo.



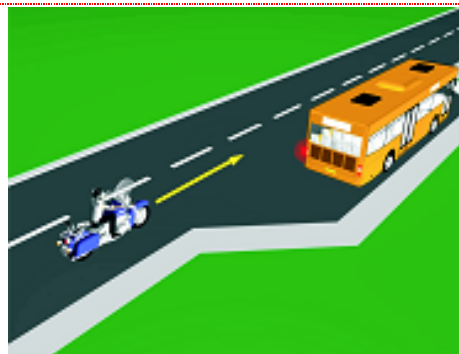
68 Kako ćete postupiti u saobraćajnoj situaciji kao na slici?

- obratiti pažnju na moguću djecu na putu ili u blizini puta, a brzinu kretanja vozila prilagoditi trenutnim uslovima saobraćaja, s tim da brzina ne smije biti veća od brzine određene saobraćajnim znakom;
- obratiti pažnju samo ako se djeca nalaze na putu, a brzinu prilagoditi trenutnim uslovima saobraćaja.



69 Kako treba postupiti vozač motocikla u saobraćajnoj situaciji kao na slici, ako je na vozilu javnog gradskog prevoza putnika uključen lijevi pokazivač smjera?

- nije dužan omogućiti autobusu uključivanje u saobraćaj;
- dužan je omogućiti autobusu uključivanje u saobraćaj;
- nije dužan omogućiti autobusu uključivanje u saobraćaj jer se autobus nalazi na sporednom putu.



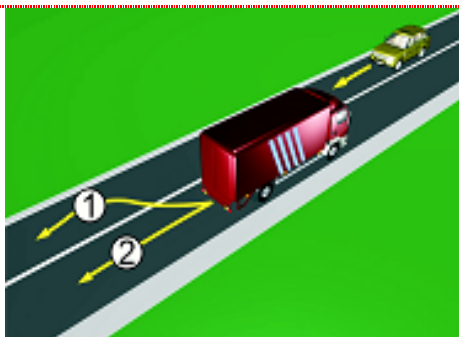
70 U saobraćajnoj situaciji kao na slici vozač putničkog automobila:

- ne smije da izvrši radnju kretanja vozilom unazad, jer čini prekršaj;
- smije izvršiti radnju kretanja vozilom unazad, jer se nalazi neposredno uz mjesto za zaustavljanje vozila.



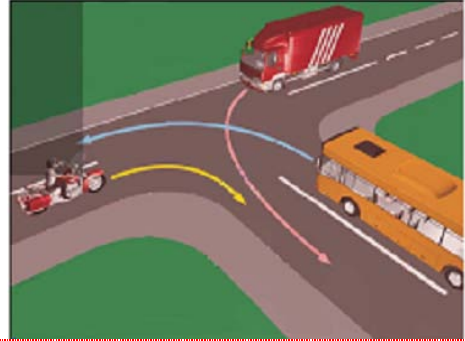
71 U saobraćajnoj situaciji kao na slici, vozač kamiona prilikom vršenja radnje kretanja vozilom unazad mora da se kreće:

- linijama broj 1 i broj 2;
- linijom broj 2;
- linijom broj 1.



72 Koji je redoslijed prolaska vozila na raskrsnici u situaciji kao na slici?

- 1 autobus, kamion, motocikl;
- 2 motocikl, autobus, kamion;
- 3 motocikl i kamion istovremeno, pa autobus;
- 4 motocikl, kamion, autobus.



73 Koji je redoslijed prolaska vozila na raskrsnici u situaciji kao na slici?

- 1 tramvaj, motocikl, putnički automobil;
- 2 tramvaj, a zatim istovremeno putnički automobil i motocikl;
- 3 motocikl, putnički automobil, tramvaj;
- 4 motocikl, tramvaj, putnički automobil.



74 Koje vozilo će u saobraćajnoj situaciji kao na slici posljednje proći kroz raskrsnicu?

- 1 motocikl;
- 2 policijsko vozilo koje drugom policijskom vozilu dolazi sa desne strane;
- 3 policijsko vozilo koje se nalazi na putu sa prvenstvom prolaza.



75 Kojoj vrsti saobraćajnih znakova pripada postavljeni saobraćajni znak na slici?

- 1 znakovima opasnosti;
- 2 znakovima obavještenja;
- 3 znakovima izričitih naredbi.



76 Kako treba postupiti u saobraćajnoj situaciji kao na slici?

- 1 obavezno se zaustaviti pa nastaviti kretanje vozilom ulijevo ili udesno;
- 2 nastaviti kretanje vozilom nakon propuštanja vozila koja dolaze samo sa desne strane;
- 3 nastaviti kretanje vozilom ulijevo ili udesno nakon propuštanja svih vozila koja se kreću putem na koji se uključujem.



77 Kako treba postupiti u saobraćajnoj situaciji kao na slici ako vozilom prolazite pored dva postavljena saobraćajna znaka?

- prilagoditi brzinu kretanja vozila tako da ona ne prelazi 50 km/h;
- 2 obratiti pažnju na pješake, jer saobraćajni znak ukazuje na blizinu pješačkog prelaza;
- 3 nastaviti kretanje vozilom uz prethodno propuštanje pješaka.



78 Kako ćete postupiti u saobraćajnoj situaciji kao na slici ako kretanje vozilom nastavljate pravo, na raskrsnici puteva iste važnosti na kojoj uređaji za davanje svjetlosnih saobraćajnih znakova nisu u funkciji?

- pažljivo proći vozilom kroz raskrsnicu;
- 2 propustiti vozila koja dolaze i sa lijeve i sa desne strane;
- 3 propustiti vozila koja dolaze sa desne strane;
- 4 propustiti vozila iz suprotnog smjera koja namjeravaju skrenuti ulijevo.



79 U saobraćajnoj situaciji kao na slici učesnici u saobraćaju će proći kroz raskrsnicu sljedećim redoslijedom:

- 1 oba bicikla, crveni automobil, zeleni automobil;
- 2 zeleni automobil, crveni automobil, pa bicikli;
- 3 oba bicikla, zeleni automobil, crveni automobil.



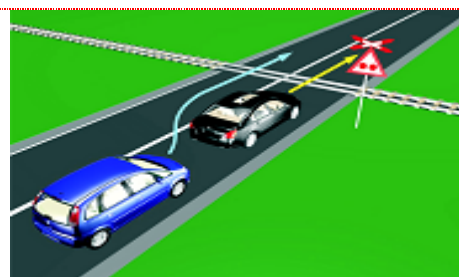
80 U saobraćajnoj situaciji kao na slici vozač vozila koje se nalazi u srednjoj saobraćajnoj traci:

- mora nastaviti kretanje vozilom pravo, jer nije pravovremeno izvršio radnju preostrojanja;
- 2 ne smije izvršiti radnju skretanja ulijevo, jer čini prekršaj;
- 3 sačekaće sva vozila da skrenu ulijevo, a potom izvršiti radnju skretanja ulijevo.



81 U saobraćajnoj situaciji kao na slici, plavi putnički automobil:

- 1 ne čini prekršaj jer je prelaz preko pruge regulisan svjetlosnim saobraćajnim znakovima;
- 2 čini prekršaj.



82 Kako ćete postupiti u saobraćajnoj situaciji kao na slici ukoliko automobilom skrećete udesno?

- propustiću biciklistu, a zatim vršim radnju skretanja udesno;
- vozim istovremeno sa biciklistom.



83 Kako treba postupiti u saobraćajnoj situaciji kao na slici?

- 1 povećati brzinu kretanja vozila;
- obratiti pažnju na postupke vozača vozila iz suprotnog smjera;
- povećati pažnju i prije vozila iz suprotnog smjera proći dionicu na kojoj je suženje puta.



84 Kako ćete postupiti u saobraćajnoj situaciji kao na slici?

- propustiti crveni automobil;
- proći kroz raskrsnicu prije crnog automobila;
- 3 proći kroz raskrsnicu prije crvenog automobila.



85 Kako ćete postupiti u saobraćajnoj situaciji kao na slici?

- 1 propustiti autobus;
- 2 propustiti motocikl;
- 3 proći kroz raskrsnicu prije autobusa.



86 Kako ćete postupiti u saobraćajnoj situaciji kao na slici?

- 1 proći prvi kroz raskrsnicu;
- 2 proći zadnji kroz raskrsnicu;
- 3 proći prije crvenog vozila kroz raskrsnicu;
- 4 propustiti vozilo koje dolazi iz suprotnog smjera.



87 Koji je redoslijed prolaska vozila na raskrsnici u situaciji kao na slici?

- 1 1 – 2 – 3;
- 2 2 – 3 – 1;
- 3 3 – 1 – 2.



88 Kako ćete postupiti u saobraćajnoj situaciji kao na slici?

- 1 proći prvi kroz raskrsnicu jer imate prednost;
- 2 propustiti oba vozila i zadnji proći kroz raskrsnicu;
- 3 propustiti vozilo hitne pomoći koje daje svjetlosne znakove, a zatim proći kroz raskrsnicu.



89 Kako treba postupiti vozač putničkog automobila u saobraćajnoj situaciji kao na slici ako se vozač autobusa uključuje u saobraćaj sa stajališta?

- 1 smanjuje brzinu kretanja i omogućuje uključivanje autobusa u saobraćaj;
- 2 zvučnim znakom upozorava vozača autobusa da ga propusti jer ima prvenstvo prolaza;
- 3 prolazi pored autobusa jer ima prednost.



90 Kako treba postupiti u saobraćajnoj situaciji kao na slici?

- 1 proći prvi kroz raskrsnicu;
- 2 propustiti autobus;
- 3 proći kroz raskrsnicu prije vozila sa lijeve strane;
- 4 proći kroz raskrsnicu prije autobusa, jer vrši radnju skretanja ulijevo.

